







LONGUEUR	Séquence 2	Séance 2
CP	TRACE ÉCRITE AVEC CONCLUSION	

	Quelle est la ligne la plus longue, la bleue ou la verte ?
	
	La ligne bleue mesure bâtons. La ligne verte mesure bâtons.
	La ligne est plus longue que la ligne
	Pour mesurer un objet, si on n'a qu'un étalon, on peut le reporter et faire un repère à chaque fois. On compte le nombre de fois qu'on a reporté l'étalon. Les repères étant obtenus par report d'un étalon, on a des graduations .